






Tri de problèmes : Voici 6 problèmes : classe-les selon des critères que tu expliqueras


	PROBLÈMES CM1 (1)	4
<p>Dans son verger, monsieur Dupond a ramassé 214 pommes et 165 poires.</p> <p>Combien de fruits a-t-il au total ?</p>		

	PROBLÈMES CM1 (1)	6
<p>Mamie a gagné 320 euros au casino tandis que Papy a gagné 155 euros.</p> <p>Combien Mamie a-t-elle gagné de plus que Papy ?</p>		

	PROBLÈMES CM1 (1)	14
<p>La maîtresse a compté 63 crayons gris et 49 crayons de couleur dans la classe.</p> <p>Combien de crayons compte-t-elle au total ?</p>		

	PROBLÈMES CM1 (1)	16
<p>Mon école compte 98 élèves tandis que celle de mon cousin a 131 élèves.</p> <p>Combien d'élèves notre école a-t-elle de moins ?</p>		

	PROBLÈMES CM1 (1)	24
<p>Pour préparer la fête d'anniversaire, maman a ramené 18 parts de cake, 6 parts de tarte au citron et 9 parts de tarte au chocolat.</p> <p>Combien de parts de gâteau y a-t-il au total ?</p>		

	PROBLÈMES CM1 (1)	26
<p>La course s'est terminée. Alain a couru en 49 secondes tandis qu'Alexandre a couru en 1min.</p> <p>Combien de temps de moins Alain a-t-il mis ?</p>		